

Chers élèves de Troisième (PERRIER / ROUSSIN / VAN GOGH).

Enfin je vous retrouve sur Métice afin de poursuivre tant bien que mal nos cours.

Nous allons procéder comme suit :

La leçon porte sur le nouveau chapitre : « **chapitre V = aménager les territoires ultramarins** »

Attention : certaines classes ont déjà travaillé sur ce sujet. Cela leur servira donc de révision...

Nous utiliserons le manuel et surtout le fichier d'activités.

Première étape : je vous avais demandé de préparer les fiches 45 et 46. Voici donc les réponses aux questions qui vous permettent de corriger votre travail. (le corrigé est en rouge)

FICHE 45

Réponse 1 = il n'y a pas de difficulté puis que vous avez su repérer et colorier la France continentale ;

Réponse 2 = le plus proche : **Saint-Pierre-et-Miquelon, à 4 277 km de la métropole.**

Le plus lointain : **Wallis-et-Futuna, à 18 000 km de la métropole.**

Réponse 3 = (voir le corrigé sur le planisphère ci-dessous)

Ils ont un statut de département et de région, comme ceux et celles de métropole et font partie de l'UE.

Réponse 4 = (voir le corrigé sur le planisphère)

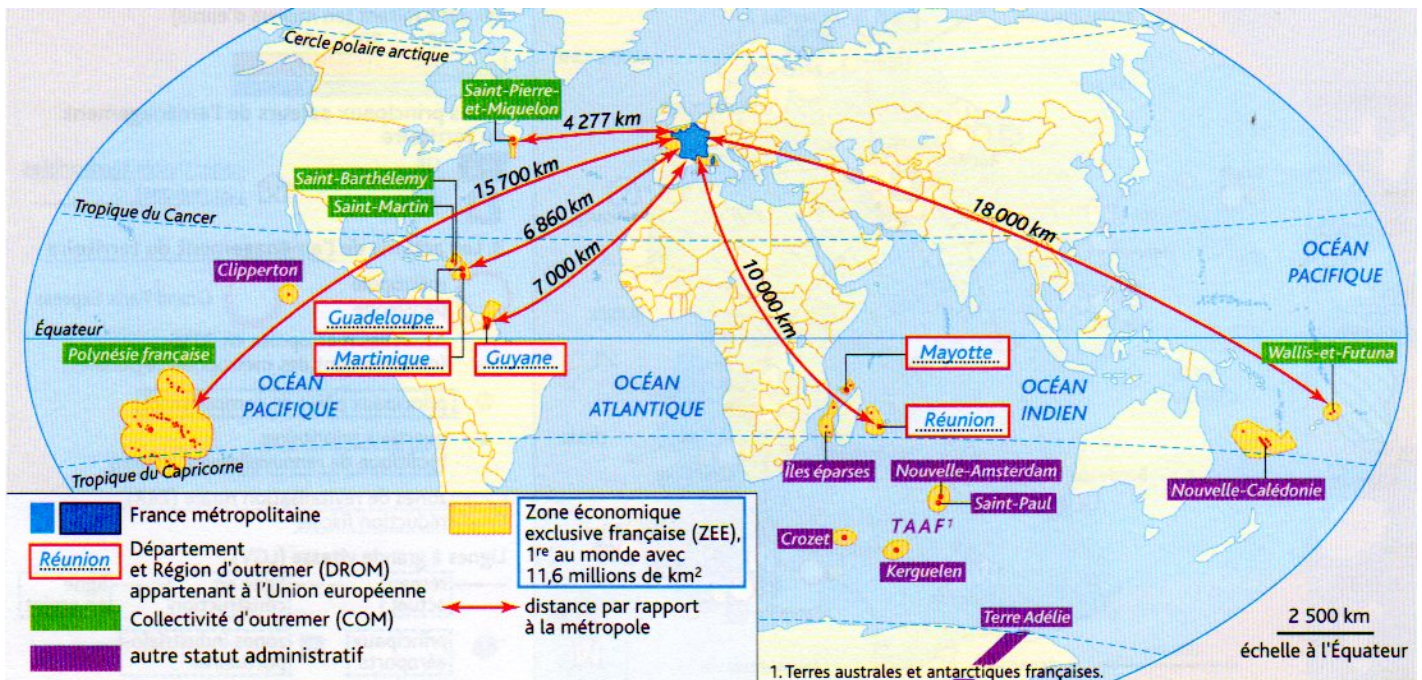
Réponse 5 = **La Guyane et la Terre Adélie.**

Réponse 6 = **Après avoir passé un concours de la fonction publique, elle est mutée à plus de 10 000 km de sa famille.**

Réponse 7 = il fallait souligner les passages suivants:

« à plus de 10 000 kilomètres de ma famille, de mon île... vêtements pour subsister l'hiver »,

« ne va pas pouvoir rentrer pour les vacances et passer les fêtes de famille »



FICHE 46

Réponse 1 = (voir le corrigé sur le planisphère ci-dessous)

Réponse 2 = **Ils sont situés dans les Caraïbes, sur le continent américain.**

Réponse 3 = **L'IDH de ces deux DROM est plus élevé que celui des États voisins.**

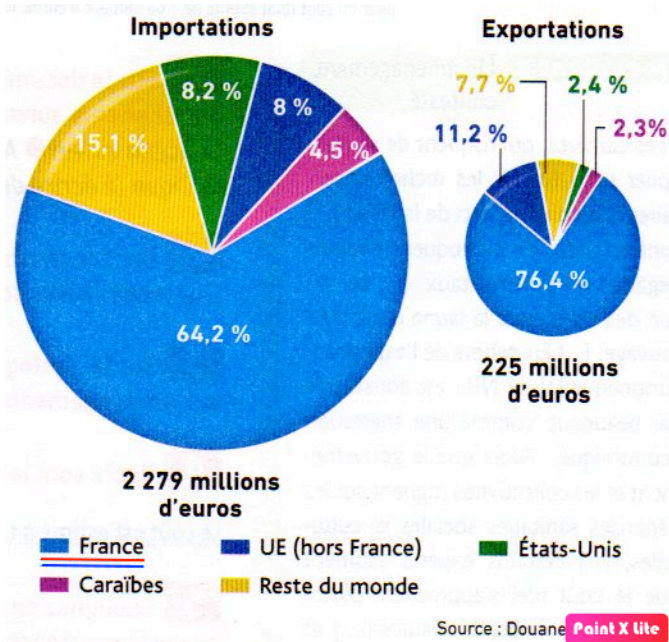
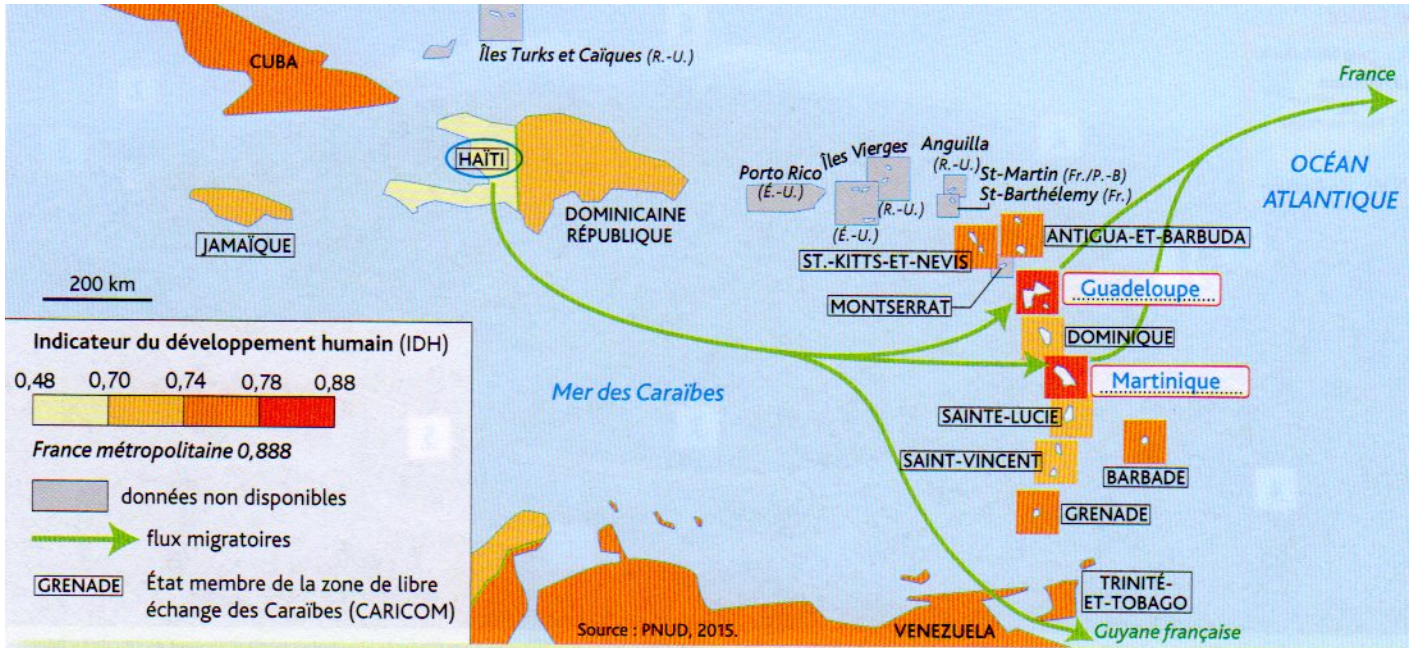
Réponse 4 = (voir le corrigé sur le planisphère ci-dessous)

Réponse 5 = **La Guadeloupe importe beaucoup plus qu'elle n'exporte, ce qui crée un déficit de son commerce extérieur.**

Réponse 6 = (voir le corrigé sur le graphique ci-dessous)

Réponse 7 = **Son principal partenaire est la France, qui représente 64,2 % de ses importations et vers laquelle vont 76,4 % de ses exportations.**

Réponse 8 = **Ces deux DROM ne sont pas membres de la CIRCOM et commercent peu avec cette zone, comme le montre le commerce extérieur de la Guadeloupe (4,5 % de ses importations et 2,3 % de ses exportations depuis et vers les Caraïbes).**



Deuxième étape : Ouvrez le manuel page 314, puis répondez aux activités dans le cahier de Géographie.

Le corrigé vous sera adressé dans une prochaine séance.

Troisième étape : Faire les activités des fiches 47 et 48. Vous vous aiderez du manuel pages 322 – 323.

A bientôt pour de nouvelles activités...

Reconnaissez-vous ce lieu ? Nous l'avons étudié rapidement...

