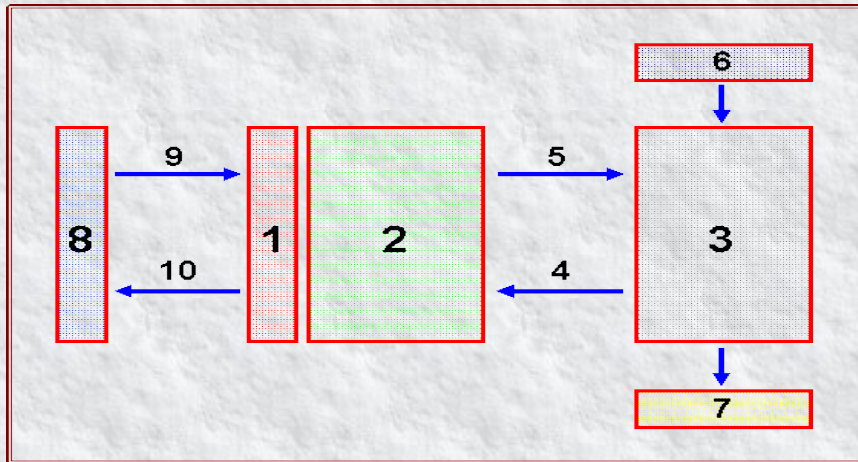
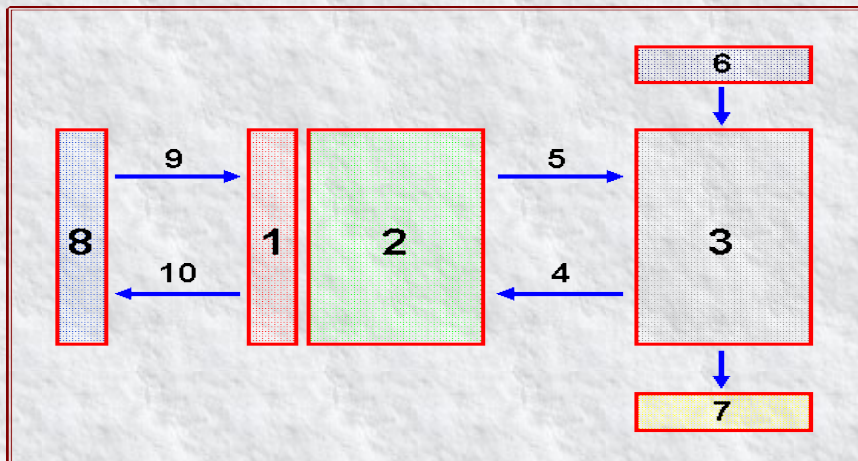


### QUESTIONNAIRE N°3



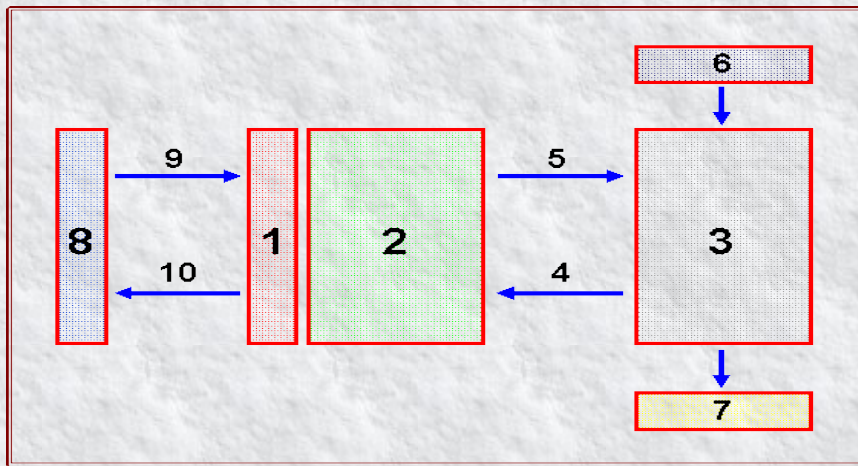
1 - Parmi les éléments schématisant la structure d'un système automatisé, que placeriez-vous en case 1 ?

- Partie opérative
- Pupitre
- Ordres
- Comptes-rendus
- Partie commande
- Eléments à l'état A
- Messages
- Eléments à l'état B
- Opérateur
- Consignes



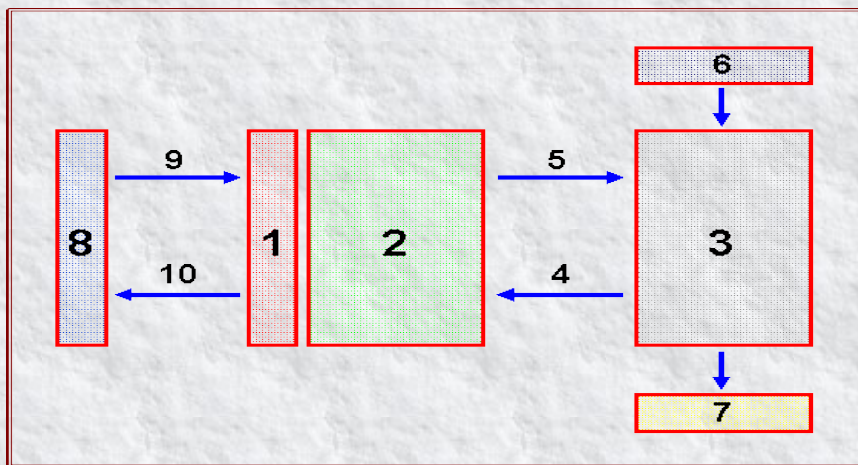
1 - Parmi les éléments schématisant la structure d'un système automatisé, que placeriez-vous en case 2 ?

- Partie opérative
- Pupitre
- Ordres
- Comptes-rendus
- Partie commande
- Eléments à l'état A
- Messages
- Eléments à l'état B
- Opérateur
- Consignes



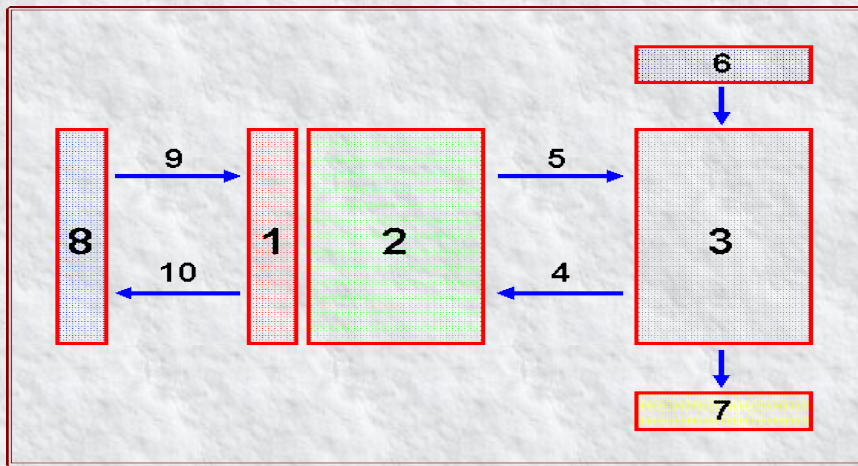
1 - Parmi les éléments schématisant la structure d'un système automatisé, que placeriez-vous en case 3 ?

- Partie opérative
- Pupitre
- Ordres
- Comptes-rendus
- Partie commande
- Éléments à l'état A
- Messages
- Éléments à l'état B
- Opérateur
- Consignes



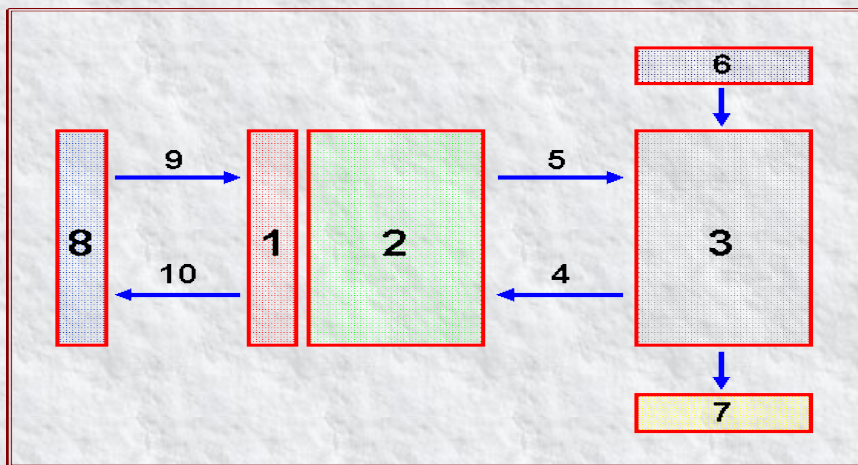
1 - Parmi les éléments schématisant la structure d'un système automatisé, que placeriez-vous en case 4 ?

- Partie opérative
- Pupitre
- Ordres
- Comptes-rendus
- Partie commande
- Éléments à l'état A
- Messages
- Éléments à l'état B
- Opérateur
- Consignes



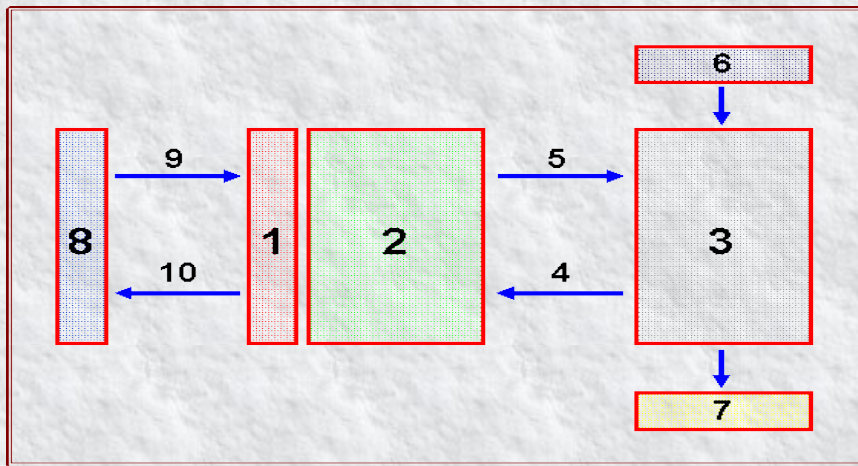
1 - Parmi les éléments schématisant la structure d'un système automatisé, que placeriez-vous en case 5 ?

- Partie opérative
- Pupitre
- Ordres
- Comptes-rendus
- Partie commande
- Éléments à l'état A
- Messages
- Éléments à l'état B
- Opérateur
- Consignes



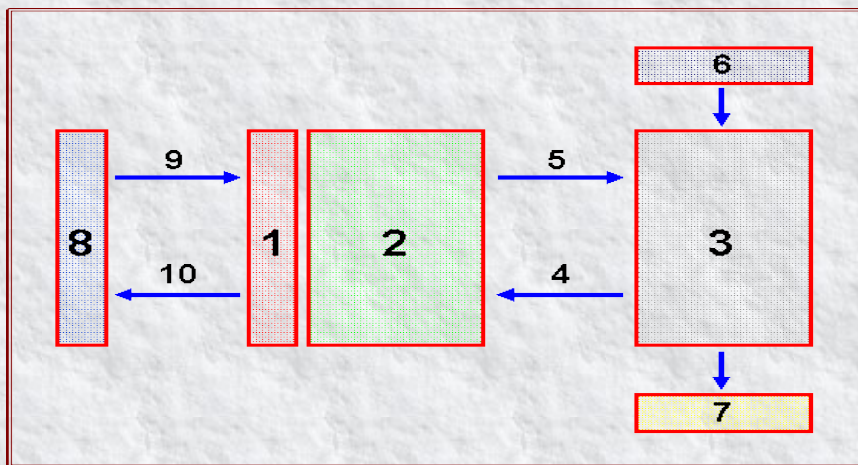
1 - Parmi les éléments schématisant la structure d'un système automatisé, que placeriez-vous en case 6 ?

- Partie opérative
- Pupitre
- Ordres
- Comptes-rendus
- Partie commande
- Éléments à l'état A
- Messages
- Éléments à l'état B
- Opérateur
- Consignes



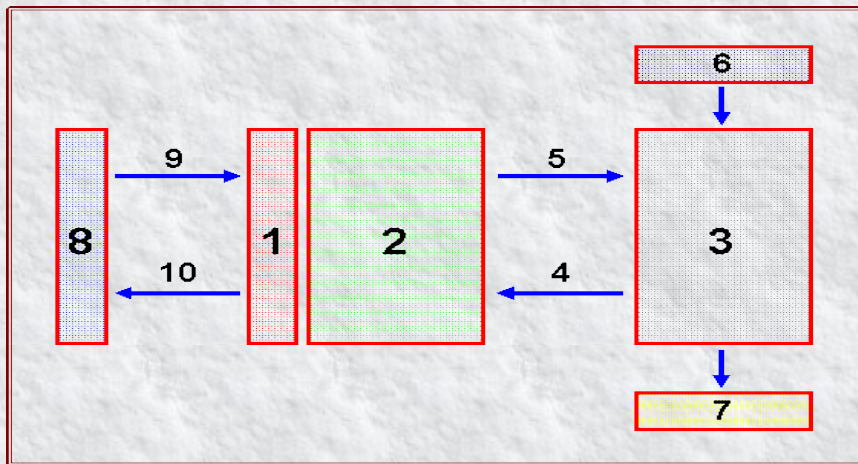
1 - Parmi les éléments schématisant la structure d'un système automatisé, que placeriez-vous en case 7 ?

- Partie opérative
- Pupitre
- Ordres
- Comptes-rendus
- Partie commande
- Éléments à l'état A
- Messages
- Éléments à l'état B
- Opérateur
- Consignes



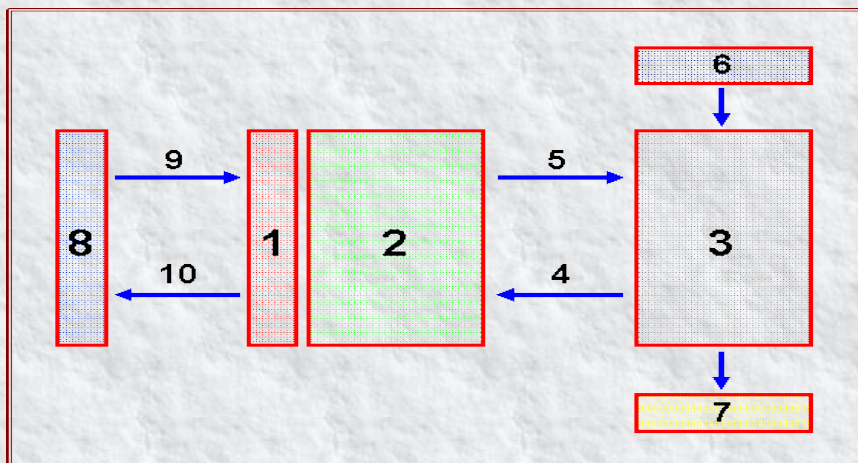
1 - Parmi les éléments schématisant la structure d'un système automatisé, que placeriez-vous en case 8 ?

- Partie opérative
- Pupitre
- Ordres
- Comptes-rendus
- Partie commande
- Éléments à l'état A
- Messages
- Éléments à l'état B
- Opérateur
- Consignes



1 - Parmi les éléments schématisant la structure d'un système automatisé, que placeriez-vous en case 9 ?

- Partie opérative
- Pupitre
- Ordres
- Comptes-rendus
- Partie commande
- Éléments à l'état A
- Messages
- Éléments à l'état B
- Opérateur
- Consignes



1 - Parmi les éléments schématisant la structure d'un système automatisé, que placeriez-vous en case 10?

- Partie opérative
- Pupitre
- Ordres
- Comptes-rendus
- Partie commande
- Éléments à l'état A
- Messages
- Éléments à l'état B
- Opérateur
- Consignes

**UNE FOIS LE QUESTIONNAIRE TERMINE :**

- ENREGISTREZ VOTRE TRAVAIL**
- ENVOYER VOTRE TRAVAIL AU PROFESSEUR VIA LA MESSAGERIE PEDAGOGIQUE**